



ATIVIDADES COMPLEMENTARES DE ESTUDO – COVID 19

ROTEIRO DE ATIVIDADES COMPLEMENTARES DE ESTUDO – COVID 19

31º roteiro

ESCOLA MUNICIPAL DR. VITÓRIO FRANKLIN

PROFESSORA: LUCI ANE FERNANDES TURMA: Sala de Recurso B - Grupo 1

COMPONENTES CURRICULARES: LÍNGUA PORTUGUESA E MATEMÁTICA

PERÍODO DE REALIZAÇÃO: 03 A 12 DE NOVEMBRO DE 2021

NOME : _____

| | |
|--|--|
| O QUE VOCÊ VAI ESTUDAR: | <ul style="list-style-type: none"> ➤ Língua Portuguesa: Ortografia QUE, QUI, QUA. Cruzadinha, auto ditado, formar frases. ➤ Matemática: sistema de numeração, valor posicional e situações problemas de adição e subtração. |
| PARA QUE VAMOS ESTUDAR ESSES CONTEÚDOS? | <ul style="list-style-type: none"> ➤ Língua Portuguesa: Realizar leitura e escrita de palavras com QUE, QUI, QUA e formar frases. ➤ Matemática: Identificar números e relacioná-los com material dourado. Ler, interpretar e resolver situações problemas de adição e subtração. |
| COMO VAMOS ESTUDAR OS CONTEÚDOS? | <ul style="list-style-type: none"> ➤ Lendo, gravando áudio ou vídeo e respondendo as atividades propostas pela professora. |

LÍNGUA PORTUGUESA

1 LEIA AS PALAVRAS ABAIXO:

**QUADRO - QUATI - QUILO - QUEIJO
CAQUI - QUEROSENE - MACAQUINHO
QUARENTA - AQUARELA - QUIBE
PIQUENIQUE - QUINTO - PERIQUITO
PEQUENO - QUENTE**














ATIVIDADES COMPLEMENTARES DE ESTUDO – COVID 19

2 AGORA, ESCREVA NO QUADRO ABAIXO AS PALAVRAS, OBSERVANDO AS SÍLABAS INDICADAS.

| QUA | QUE | QUI |
|-------|-------|-------|
| | | |
| | | |
| | | |
| | | |
| | | |

3 – ESCREVA O NOME DOS DESENHOS:

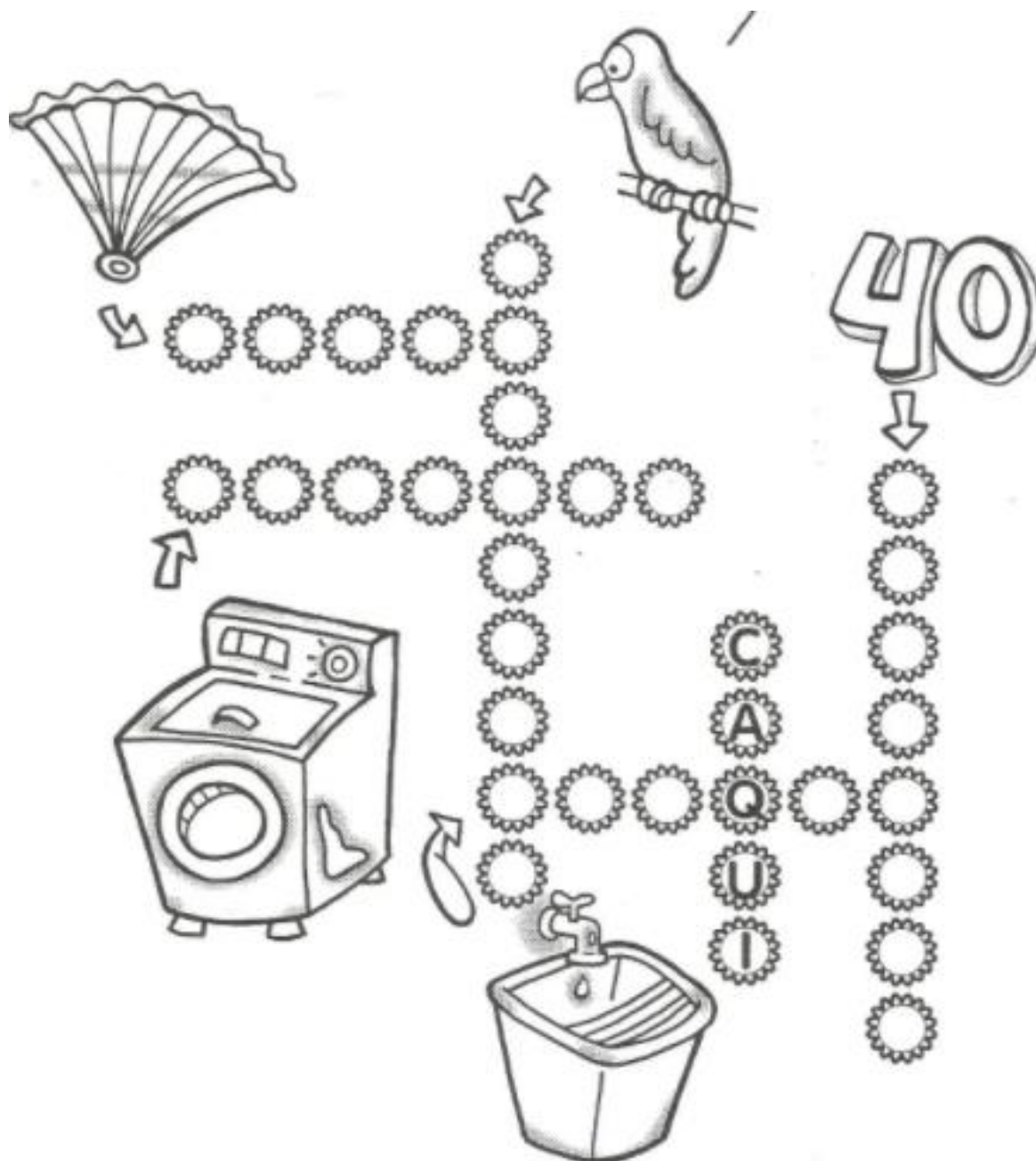
| | | |
|--|--|--|
|  _____ |  _____ |  _____ |
|  _____ |  _____ |  _____ |
|  _____ |  _____ |  _____ |



ATIVIDADES COMPLEMENTARES DE ESTUDO – COVID 19

4- ESCREVA UMA FRASE COM AS PALAVRAS **MÁQUINA** E **JAQUETA**.

5- ESCREVA O NOME DOS DESENHOS NA CRUZADINHA:

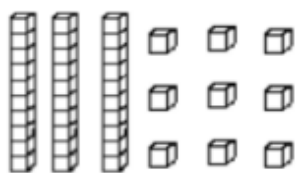




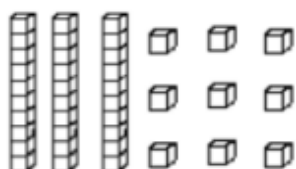
ATIVIDADES COMPLEMENTARES DE ESTUDO – COVID 19

MATEMÁTICA

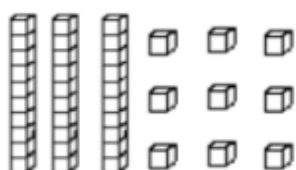
1- PINTE AS BARRINHAS DE ACORDO COM OS NÚMEROS, DEPOIS, ESCREVA OS NÚMEROS POR EXTENSO:



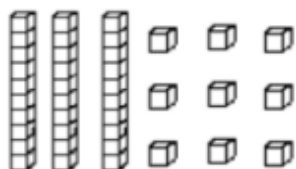
| | |
|---|---|
| 1 | 8 |
|---|---|



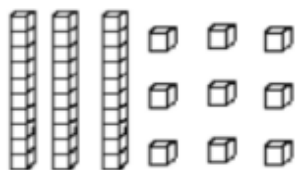
| | |
|---|---|
| 2 | 2 |
|---|---|



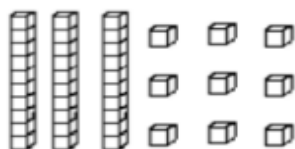
| | |
|---|---|
| 0 | 9 |
|---|---|



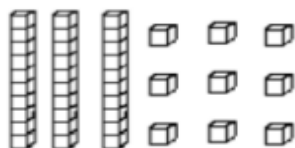
| | |
|---|---|
| 1 | 5 |
|---|---|



| | |
|---|---|
| 2 | 7 |
|---|---|



| | |
|---|---|
| 3 | 0 |
|---|---|



| | |
|---|---|
| 2 | 5 |
|---|---|



ATIVIDADES COMPLEMENTARES DE ESTUDO – COVID 19

2- LEIA E RESOLVA AS SITUAÇÕES PROBLEMAS ABAIXO:

**a - PAULO COMPROU 23 ESPIGAS DE MILHO.
COZINHOU 11 ESPIGAS. QUANTAS
SOBRARAM?**

R: _____

**b - NUM PASTO HÁ 36 VACAS, 46 BOIS.
QUANTOS ANIMAIS HÁ NO PASTO?**

R: _____

**c - NUM CAIXOTE HAVIA 97 COCOS. FORAM
VENDIDOS 63 COCOS PARA UMA FÁBRICA DE
DOCES. QUANTOS COCOS SOBRARAM?**

R: _____



ATIVIDADES COMPLEMENTARES DE ESTUDO – COVID 19

e - LUÍS PLANTOU EM SUA FAZENDA 60 PÉS DE LARANJEIRAS. MORRERAM 20 PÉS. QUANTAS LARANJEIRAS FICARAM?

R: _____

f - NUMA HORTA HÁ 53 PÉS DE TOMATES E 27 PÉS DE ALFACES. SÃO QUANTOS PÉS AO TODO?

R: _____